


प्रश्न पुस्तिका / QUESTION BOOKLET

पुस्तिका में पृष्ठों की संख्या / Number of Pages in Booklet : 24	
पुस्तिका में प्रश्नों की संख्या / Number of Questions in Booklet : 150	
अवधि / Duration : 3.00 घंटे / Hours	पूर्णांक / Maximum Marks : 300
131A	

प्रश्न पुस्तिका क्रमांक
Question Booklet Number

INSTRUCTIONS

1. Please correctly fill your Roll Number in O.M.R. Sheet. Candidate will himself be responsible for filling wrong Roll No.
 2. At the start of the examination, before attempting the question paper kindly check your test booklet and O.M.R. Answer Sheet and ensure that:
 - * The serial numbers of test booklet and O.M.R. answer sheet are same.
 - * All pages of test booklet and O.M.R. answer sheet are properly printed. All questions from S. No. 1 to last S. No. 150 are printed and pages from S. No. 1 to last S. No. 24 are there in the question booklet.
- In case of any discrepancy/defect the candidate should immediately report the matter to the invigilator for replacement of test booklet and O.M.R answer sheet. No claim/objection in this regard will be entertained after five minutes of start of examination. Candidate will be liable for it.
3. Answer all questions.
 4. All questions carry equal marks.
 5. Only one answer is to be given for each question.
 6. If more than one answers are marked, it would be treated as wrong answer.
 7. There is no Negative marking.
 8. Each question has four alternative responses marked serially as (A), (B), (C), (D). Candidate has to darken only one circle or bubble indicating the correct answer on the Answer Sheet using **BLUE BALL POINT PEN**.
 9. Use of Mobile Phone/ Bluetooth Devices or any other electronic gadget in the examination hall is strictly prohibited. If any such prohibited material is found with any candidate, strict action will be taken by the Board against him/her as per rule.
 10. If there is any sort of ambiguity/mistake either of printing or factual nature in Hindi and English version of the question, the English version will be treated as standard.

Warning : If a candidate is found copying or if any unauthorized material is found in his/her possession, F.I.R. would be lodged against him/her in the Police Station and he/she would be liable to be prosecuted under Section 3 of the **State Prevention of Unfair Means Act, 1992** and Board Regulations. Board may also debar him/her permanently from all future examinations of the Board.

निर्देश

1. कृपया अपना रोल नम्बर ओ.एम.आर. पत्रक पर सावधानीपूर्वक सही भरें। गलत रोल नंबर भरने पर परीक्षार्थी स्वयं उत्तरदायी होगा।
 2. प्रश्न-पत्र हल करने से पूर्व, परीक्षा प्रारम्भ होते ही प्रश्न-पत्र पुस्तिका एवं ओ.एम.आर. उत्तर-पत्रक की भली-भाँति जाँच कर यह सुनिश्चित कर लें कि:
 - * प्रश्न-पत्र पुस्तिका एवं ओ.एम.आर. उत्तर-पत्रक के क्रमांक एक समान हैं।
 - * प्रश्न-पत्र पुस्तिका एवं ओ.एम.आर. उत्तर-पत्रक के सभी पृष्ठ सही छपे हुए हैं। प्रश्न-पत्र पुस्तिका में प्रश्न सं. 1 से अन्तिम क्रमांक 150 तक सभी प्रश्न क्रमवार मुद्रित हैं एवं सभी पृष्ठ क्रमवार 1 से 24 तक मौजूद हैं।
- किसी भी प्रकार की विसंगति होने या दोषपूर्ण होने पर प्रश्न-पत्र पुस्तिका एवं ओ.एम.आर. उत्तर-पत्रक का दूसरा लिफाफा अभिजागर से प्राप्त कर लें। परीक्षा प्रारम्भ होने के 5 मिनट के पश्चात् ऐसी स्थिति में किसी दावे/आपत्ति पर कोई विचार नहीं किया जावेगा। उसमें समस्त जिम्मेदारी अभ्यर्थी की होगी।
3. सभी प्रश्नों के उत्तर दीजिए।
 4. सभी प्रश्नों के अंक समान हैं।
 5. प्रत्येक प्रश्न का केवल एक ही उत्तर दीजिए।
 6. एक से अधिक उत्तर देने की दशा में प्रश्न के उत्तर को गलत माना जावेगा।
 7. ऋणात्मक अंक देय नहीं है।
 8. प्रत्येक प्रश्न के चार वैकल्पिक उत्तर दिए गए हैं, जिन्हें क्रमशः (A), (B), (C), (D) अंकित किया गया है। अभ्यर्थी को सही उत्तर निर्दिष्ट करते हुए उनमें से केवल एक गोले अथवा बबल को उत्तर-पत्रक पर **नीले बॉल प्वाइंट पेन** से गहरा करना है।
 9. मोबाईल फोन/ ब्ल्यूटूथ डिवाइस अथवा इलेक्ट्रॉनिक यंत्र का परीक्षा हॉल में प्रयोग पूर्णतया वर्जित है। यदि किसी अभ्यर्थी के पास ऐसी कोई वर्जित सामग्री मिलती है, तो उसके विरुद्ध बोर्ड द्वारा नियमानुसार कठोर कार्यवाही की जावेगी।
 10. यदि किसी प्रश्न के हिन्दी एवं अंग्रेजी रूपान्तरों में किसी प्रकार की कोई मुद्रण या तथ्यात्मक प्रकार की त्रुटि हो, तो प्रश्न का अंग्रेजी रूपान्तरण मान्य होगा।

चेतावनी : अगर कोई अभ्यर्थी नकल करते पकड़ा जाता है या उसके पास से कोई अनधिकृत सामग्री पाई जाती है, उस अभ्यर्थी के विरुद्ध पुलिस में प्राथमिकी दर्ज कराई जायेगी और **राज्य अनुचित साधनों की रोकथाम अधिनियम, 1992** की धारा 3 एवं बोर्ड रेग्यूलेशन के तहत कार्यवाही की जावेगी। साथ ही बोर्ड ऐसे अभ्यर्थी को भविष्य में होने वाली बोर्ड की समस्त परीक्षाओं से विवर्जित कर सकता है।

इस परीक्षा पुस्तिका को तब तक न खोलें जब तक कहा न जाए / Do not open this test booklet until you are asked to do so.

1. Which of the following (Political Activist - Related Princely State) is not correctly matched?
 (A) Krishna Dutt Paliwal - Dholpur
 (B) Harimohan Mathur - Karauli
 (C) Mathura Das Mathur - Marwar
 (D) Gopilal Yadav - Bharatpur
 2. Bharatpur Rajya Praja Sangh was established in-
 (A) 1937 (B) 1928
 (C) 1938 (D) 1942
 3. Who was the political agent of Jaipur during the Revolt of 1857?
 (A) Mock Mason (B) Major Burton
 (C) William Eden (D) Major Morrison
 4. During the tenure of which Governor General of India, the Hindu Widow Remarriage Act was passed?
 (A) Lord Amherst (B) Lord Ellenborough
 (C) Lord Canning (D) Lord Mayo
 5. In 1818 AD, on behalf of the company, the officer who made Treaty with the Rajput state was -
 (A) Mock Mason (B) James Ferguson
 (C) Charles Hector (D) Charles Metcalfe
 6. Gandhi Ashram in Hatundi (Ajmer) was established by -
 (A) Arjunlal Sethi
 (B) Haribhau Upadhyaya
 (C) Jamnalal Bajaj
 (D) Manikya Lal Verma
 7. Through which newspaper did Vijay Singh Pathik propagate the Bijolia farmer movement all over India?
 (A) Naveen Rajasthan (B) Tarun Rajasthan
 (C) Yugantar (D) Pratap
1. निम्नलिखित में से कौनसा (राजनीतिक कार्यकर्ता – संबंधित देशी राज्य) सुमेलित नहीं है?
 (A) कृष्णदत्त पालीवाल – धौलपुर
 (B) हरिमोहन माथुर – करौली
 (C) मथुरा दास माथुर – मारवाड़
 (D) गोपीलाल यादव – भरतपुर
 2. भरतपुर राज्य प्रजा संघ की स्थापना हुई –
 (A) 1937 में (B) 1928 में
 (C) 1938 में (D) 1942 में
 3. 1857 की क्रांति के दौरान जयपुर के पॉलिटिकल एजेंट कौन थे?
 (A) मॉक मैसन (B) मेजर बर्टन
 (C) विलियम ईडन (D) मेजर मॉरीसन
 4. भारत के किस गवर्नर जनरल के कार्यकाल के दौरान, हिंदू विधवा पुनर्विवाह अधिनियम पारित किया गया था?
 (A) लॉर्ड एमहर्स्ट (B) लॉर्ड एलनबरो
 (C) लॉर्ड कैनिंग (D) लॉर्ड मेयो
 5. 1818 ई. में, कम्पनी की ओर से राजपूत राज्यों से संधि करने वाला अधिकारी था –
 (A) मॉक मेसन (B) जेम्स फर्ग्यूसन
 (C) चार्ल्स हेक्टर (D) चार्ल्स मेटकाफ
 6. हटुण्डी (अजमेर) में गांधी आश्रम की स्थापना के द्वारा की गई।
 (A) अर्जुनलाल सेठी
 (B) हरिभाऊ उपाध्याय
 (C) जमनालाल बजाज
 (D) माणिक्य लाल वर्मा
 7. विजयसिंह पथिक ने किस समाचार पत्र के माध्यम से बिजौलिया किसान आन्दोलन का प्रचार पूरे भारत में कर दिया था?
 (A) नवीन राजस्थान (B) तरुण राजस्थान
 (C) युगान्तर (D) प्रताप

8. Read the following statements carefully –
 (i) In the late 19th century, the Desh Hiteshini Sabha was established in Mewar.
 (ii) Social reform was the core objective of the Sabha.
 Choose the correct code -
 (A) Only statement (i) is true
 (B) Only statement (ii) is true
 (C) Neither (i) nor (ii) is true
 (D) Both the statements are true
9. Who defeated the combined army of British and Jodhpur state in the Revolt of 1857?
 (A) Thakur Kushal (B) Jaydayal Singh
 (C) Mehrab Khan (D) Rawat Ram Singh
10. Which among the following Thikanas imposed 'Chanwari tax'?
 (A) Kuchaman (B) Didwana
 (C) Bhainsrorgarh (D) Bijolia
11. 'Mahansar' is famous for -
 (A) Golden work in painting
 (B) Abundance of Mughal paintings
 (C) The Haveli of 360 windows
 (D) Sati Mata Temple
12. Where was Swami Keshavananda, a famous education saint born?
 (A) Banasur Village (B) Mangloona Village
 (C) Harnawa Village (D) Rampura Berry
13. Where is the 'Bhartiya Lok Kala Mandal Institute' located?
 (A) Udaipur (B) Jodhpur
 (C) Tonk (D) Jaipur
14. At which place in Rajasthan the Chandrabhaga Cattle Fair is organized in the month of Kartik?
 (A) Jhalawar (B) Jhalrapatan
 (C) Keshoraipatan (D) Sitabari
15. In which year was first commemorative stamp on 'Vijay Stambh' of Chittorgarh released?
 (A) 1974 (B) 1949
 (C) 1986 (D) 1956
16. The 'Shukra Pond' got constructed by Akbar is situated in which fort?
 (A) Shergarh (B) Nagaur
 (C) Gagron (D) Sivana
8. अधोलिखित कथनों को सावधानीपूर्वक पढ़िए –
 (i) 19^{वीं} सदी के उत्तरार्द्ध में, मेवाड़ में देश हितेषिणी सभा की स्थापना की गयी।
 (ii) सभा का मुख्य उद्देश्य समाज सुधार था।
 सही कूट चुनिए –
 (A) केवल कथन (i) सत्य है
 (B) केवल कथन (ii) सत्य है
 (C) न तो (i) ना ही (ii) सत्य है
 (D) दोनों कथन सत्य हैं
9. 1857 की क्रांति में, अंग्रेज एवं जोधपुर राज्य की संयुक्त सेना को किसने पराजित किया?
 (A) ठाकुर कुशल सिंह ने (B) जयदयाल ने
 (C) मेहराब खान ने (D) रावत रामसिंह ने
10. निम्नलिखित ठिकानों में से किसने 'चँवरी कर' लगाया?
 (A) कुचामन (B) डीडवाना
 (C) भैंसरोड़गढ़ (D) बिजौलिया
11. 'महणसर' प्रसिद्ध है –
 (A) सोने की चित्रकारी के लिए
 (B) मुगलकालीन चित्रों की अधिकता के लिए
 (C) 360 खिड़कियों की हवेली के लिए
 (D) सती माता मन्दिर के लिए
12. शिक्षा संत के रूप में, प्रसिद्ध स्वामी केशवानन्द का जन्म कहाँ हुआ?
 (A) बाणासुर गाँव (B) मंगलूना गाँव
 (C) हरनावा गाँव (D) रामपुरा बेरी
13. 'भारतीय लोक कला मण्डल संस्थान' कहाँ स्थित है?
 (A) उदयपुर (B) जोधपुर
 (C) टोंक (D) जयपुर
14. कार्तिक महीने में चन्द्रभागा पशु मेला राजस्थान में किस स्थान पर आयोजित होता है?
 (A) झालावाड़ (B) झालरापाटन
 (C) केशवरायपाटन (D) सीताबाड़ी
15. चित्तौड़गढ़ स्थित 'विजय स्तम्भ' पर पहला स्मारक डाक टिकट कब जारी किया गया?
 (A) 1974 (B) 1949
 (C) 1986 (D) 1956
16. अकबर द्वारा निर्मित 'शुक्र तालाब' किस किले में स्थित है?
 (A) शेरगढ़ (B) नागौर
 (C) गागरोन (D) सिवाना



17. Lodrava is famous for -
 (A) Jains (B) Sikhs
 (C) Jats (D) Gurjars
18. Which ruler of Mewar patronized the painter Sahibdin?
 (A) Maharana Raj Singh
 (B) Maharana Amar Singh
 (C) Maharana Jagat Singh I
 (D) Maharana Kumbha
19. 'Falku Bai' is related to which folk dance?
 (A) Bhawai Dance (B) Chari Dance
 (C) Kalbelia Dance (D) Terahtali Dance
20. Which one of the following musical instrument is different from the other three?
 (A) Khadtal (B) Mashak
 (C) Shehnai (D) Algoza
21. Pratap Singh Barhath was imprisoned in which of the following conspiracy case?
 (A) Alipore conspiracy case
 (B) Lahore conspiracy case
 (C) Udaipur conspiracy case
 (D) Banaras conspiracy case
22. Which one of the following (Ornament - Human body part) is not matched correctly?
 (A) Suraliya - Ear (B) Timaniya - Neck
 (C) Ramjhol - Wrist (D) Tagadi - Waist
23. Sridhar Andhare should be given credit for bringing to light the painting style -
 (A) Kishangarh (B) Devgarh
 (C) Shahpura (D) Uniara
24. Match the following -
- | <u>Kuldevi</u> | <u>Caste</u> |
|----------------------------|----------------------------|
| (1) Karni mata | (i) Nai/Nayee |
| (2) Sakrai mata | (ii) Seervi |
| (3) Aai mata | (iii) Khandelwal |
| (4) Narayani mata | (iv) Charan |
| (A) 1-iv, 2-i, 3-ii, 4-iii | (B) 1-ii, 2-i, 3-iv, 4-iii |
| (C) 1-iv, 2-iii, 3-ii, 4-i | (D) 1-iv, 2-iii, 3-i, 4-ii |
17. लोद्रवा प्रसिद्ध है -
 (A) जैनियों के लिए (B) सिक्खों के लिए
 (C) जाटों के लिए (D) गुर्जरों के लिए
18. साहिबदीन नामक चित्रकार को मेवाड़ के किस शासक का संरक्षण प्राप्त था?
 (A) महाराणा राजसिंह
 (B) महाराणा अमरसिंह
 (C) महाराणा जगतसिंह I
 (D) महाराणा कुम्भा
19. 'फल्कू बाई' का सम्बन्ध किस लोक नृत्य से है?
 (A) भवाई नृत्य (B) चरी नृत्य
 (C) कालबेलिया नृत्य (D) तेरहताली नृत्य
20. निम्नलिखित में से कौन सा वाद्य यंत्र बाकी तीन से अलग है?
 (A) खड़ताल (B) मशक
 (C) शहनाई (D) अलगोज़ा
21. निम्नलिखित में से किस षडयंत्र केस में प्रतापसिंह बारहठ को कारावास दिया गया?
 (A) अलीपुर षडयंत्र मुकदमा
 (B) लाहौर षडयंत्र मुकदमा
 (C) उदयपुर षडयंत्र मुकदमा
 (D) बनारस षडयंत्र मुकदमा
22. निम्नलिखित में से कौनसा (आभूषण - मानव अंग) सुमेलित नहीं है?
 (A) सुरलिया - कान (B) तिमणिया - गला
 (C) रमझोल - कलाई (D) तगड़ी - कमर
23. श्रीधर अंधारे को किस चित्रशैली को प्रकाश में लाने का श्रेय दिया जाता है?
 (A) किशनगढ़ (B) देवगढ़
 (C) शाहपुरा (D) उणियारा
24. सुमेलित कीजिए -
- | <u>कुलदेवी</u> | <u>जाति</u> |
|----------------------------|----------------------------|
| (1) करणी माता | (i) नाई |
| (2) सकराय माता | (ii) सीरवी |
| (3) आई माता | (iii) खण्डेलवाल |
| (4) नारायणी माता | (iv) चारण |
| (A) 1-iv, 2-i, 3-ii, 4-iii | (B) 1-ii, 2-i, 3-iv, 4-iii |
| (C) 1-iv, 2-iii, 3-ii, 4-i | (D) 1-iv, 2-iii, 3-i, 4-ii |

25. How many volumes are there in 'Batan Ri Phulwari'?
- (A) 8 (B) 10
(C) 14 (D) 16
26. To which sect Govind Dev Temple, Jaipur and Madan Mohan Temple, Karauli are related?
- (A) Nath (B) Vallabh
(C) Ramsnehi (D) Gaudiya
27. To whom did Kesari Singh Barhath addressed 'Chetavani Ra Chungatiya'?
- (A) Maharana Pratap Singh
(B) Maharana Fateh Singh
(C) Maharana Ajit Singh
(D) Mirza Raja Jaisingh
28. 'Mahamandir of Jodhpur' is a place of worship of -
- (A) Bishnoi sect (B) Dadu sect
(C) Ramsnehi sect (D) Nath sect
29. What is the 'Badhar'?
- (A) Wedding banquet
(B) A tribe of Rajasthan
(C) An act of funeral
(D) A lake of Rajasthan
30. Which one of the following is not correctly matched?
- (A) Hammir Mahakavya - Nayanchandra Suri
(B) Vansh Bhaskar - Suryamall Mishan
(C) Kuvalaymala - Uddhyotana Suri
(D) Prithviraj Vijay - Chand Bardai
31. The author of poetry collection, 'Mugtee' is -
- (A) Kirti Sharma (B) Meethesh Nirmohi
(C) Vijay Verma (D) Asha Parashar
32. The cloth worn on the waist by the men of Bhil tribe is called -
- (A) Jama (B) Kachabu
(C) Polya (D) Khoyatu
33. Who is called the Folk deity (Lok Devta) with four hands?
- (A) Kalla ji (B) Mallinath ji
(C) Fatta ji (D) Jhunjhar ji
25. 'बातां री फुलवारी' कितने खण्डों में विभक्त है?
- (A) 8 (B) 10
(C) 14 (D) 16
26. गोविंद देव मन्दिर, जयपुर एवं मदन मोहन मन्दिर, करौली का सम्बन्ध किस सम्प्रदाय से है?
- (A) नाथ (B) वल्लभ
(C) रामस्नेही (D) गौड़ीय
27. केसरी सिंह बारहठ ने 'चेतावनी रा चुंगटिया' किसको सम्बोधित करके लिखा?
- (A) महाराणा प्रताप सिंह
(B) महाराणा फतेह सिंह
(C) महाराणा अजीत सिंह
(D) मिर्जा राजा जयसिंह
28. 'जोधपुर का महामन्दिर' उपासना स्थल है -
- (A) बिश्नोई संप्रदाय का (B) दादू संप्रदाय का
(C) रामस्नेही संप्रदाय का (D) नाथ संप्रदाय का
29. 'बढ़ार' क्या है?
- (A) विवाह पर आयोज्य भोज
(B) राजस्थान की एक जनजाति
(C) अंत्येष्टि की एक क्रिया
(D) राजस्थान की एक झील
30. निम्न में से कौन-सा युग्म सुमेलित नहीं है?
- (A) हम्मीर महाकाव्य - नयनचन्द्र सूरी
(B) वंश भास्कर - सूर्यमल्ल मीसण
(C) कुवलयमाला - उद्योतन सूरी
(D) पृथ्वीराज विजय - चन्दबरदाई
31. 'मुगती' नामक कविता संग्रह के रचयिता हैं -
- (A) कीर्ति शर्मा (B) मीटेश निर्मोही
(C) विजय वर्मा (D) आशा पाराशर
32. भील जनजाति के पुरुष कमर पर जो वस्त्र लपेटा करते हैं, उसे क्या कहा जाता है?
- (A) जामा (B) कछाबू
(C) पोल्या (D) खोयतु
33. चार हाथों वाला लोकदेवता किसे कहा जाता है?
- (A) कल्ला जी (B) मल्लीनाथ जी
(C) फत्ता जी (D) झुन्झार जी

34. To which order of Sufism, the symbol of communal harmony Qazi Hamiduddin Nagori, belonged?
 (A) Chisti (B) Kadiri
 (C) Magribi (D) Suharawardi
35. The mosque of Malik Shah is situated in -
 (A) Jhalawar (B) Baran
 (C) Jalore (D) Rajsamand
36. If the meridian that determines the Indian Standard Time – (IST) is given the status of Prime Meridian then what will be longitude of the International Date line?
 (A) 97°30' West (B) 97°30' East
 (C) 82°30' East (D) 180° East
37. The Dry Land farming is done in India in -
 (A) 100 cm to 150 cm annual rainfall areas
 (B) 35 cm to 75 cm annual rainfall areas
 (C) 75 cm to 110 cm annual rainfall areas
 (D) More than 150 cm annual rainfall areas
38. India has been divided into 15 Agro-climatic zones by-
 (A) The Planning Commission
 (B) The Agricultural Ministry
 (C) The Water-Resource Ministry
 (D) The Meteorological Department
39. India's first olive refinery, was set up in Rajasthan at -
 (A) Pachpadra (B) Lunkaransar
 (C) Amarsagar (D) Suratgarh
40. Highest Ragi producing state of India is -
 (A) Uttarakhand (B) Tamil Nadu
 (C) Maharashtra (D) Karnataka
41. Which one of the following (Shifting Cultivation - Area) is not correctly matched?
 (A) Ponam - Kerala
 (B) Podu - Andhra Pradesh and Odisha
 (C) Jhum - Assam
 (D) Kumari - Madhya Pradesh
42. 'Palk strait' is located between -
 (A) India and Maldives
 (B) India and Indonesia
 (C) India and Myanmar
 (D) India and Sri Lanka
34. साम्प्रदायिक सौहार्द के प्रतीक, काजी हमीदुद्दीन नागौरी, किस सूफी सिलसिले के थे?
 (A) चिश्ती (B) कादिरि
 (C) मगरिबी (D) सुहरावर्दी
35. मलिक शाह की मस्जिद कहाँ स्थित है?
 (A) झालावाड़ (B) बारां
 (C) जालौर (D) राजसमंद
36. यदि भारतीय मानक समय – (IST) को निर्धारित करने वाली देशान्तर रेखा को प्रधान देशान्तर रेखा का दर्जा दिया जाए, तो अन्तर्राष्ट्रीय तिथि रेखा का देशान्तर क्या होगा?
 (A) 97°30' पश्चिम (B) 97°30' पूर्व
 (C) 82°30' पूर्व (D) 180° पूर्व
37. भारत में शुष्क क्षेत्र कृषि की जाती है –
 (A) 100 से.मी. से 150 से.मी. वार्षिक वर्षा क्षेत्रों में
 (B) 35 से.मी. से 75 से.मी. वार्षिक वर्षा क्षेत्रों में
 (C) 75 से.मी. से 110 से.मी. वार्षिक वर्षा क्षेत्रों में
 (D) 150 से.मी. से अधिक वर्षा क्षेत्रों में
38. भारत को 15 कृषि-जलवायु प्रदेशों में विभक्त किया गया है –
 (A) योजना आयोग द्वारा
 (B) कृषि मंत्रालय द्वारा
 (C) जल-संसाधन मंत्रालय द्वारा
 (D) मौसम विभाग द्वारा
39. भारत की प्रथम जैतून रिफायनरी, राजस्थान में स्थापित की गई थी –
 (A) पचपद्रा में (B) लूणकरणसर में
 (C) अमरसागर में (D) सूरतगढ़ में
40. भारत में सर्वाधिक रागी उत्पादक राज्य है –
 (A) उत्तराखंड (B) तमिलनाडु
 (C) महाराष्ट्र (D) कर्नाटक
41. निम्नलिखित में से कौन सा (स्थानान्तरी कृषि – क्षेत्र) सुमेलित नहीं है?
 (A) पोनम – केरल
 (B) पोडू – आन्ध्र प्रदेश और ओडिशा
 (C) झूम – असम
 (D) कुमारी – मध्य प्रदेश
42. 'पाक स्ट्रेट' अवस्थित है –
 (A) भारत और मालदीव के मध्य
 (B) भारत और इण्डोनेशिया के मध्य
 (C) भारत और म्यानमार के मध्य
 (D) भारत और श्रीलंका के मध्य

43. Which of the following Hills is not a part of the 'Satpura Range'?
- (A) Rajpipla (B) Mahadev
(C) Bharner (D) Maikal
44. Which state of India has the highest percentage of forest area in the total area?
- (A) Arunachal Pradesh (B) Nagaland
(C) Mizoram (D) Tripura
45. 'Shivasamudram' waterfall is located on which river?
- (A) Kaveri (B) Sharavati
(C) Godawari (D) Periyar
46. In which of the following groups of districts in Rajasthan is alluvial soil mainly found?
- (A) Bharatpur - Dholpur
(B) Banswara -Dungarpur
(C) Kota - Bundi
(D) Bikaner - Jaisalmer
47. According to Census 2011, the sex ratio in Rajasthan is -
- (A) 15 points lower than the national average.
(B) 6 points higher than the national average.
(C) 6 points lower than the national average.
(D) 11 points lower than the national average.
48. According to 2011 Census, the percentage of scheduled tribe population to total population in Rajasthan is -
- (A) 14.8 (B) 16.9
(C) 13.5 (D) 13.3
49. 'Isarda Dam Project' is constructed in which districts?
- (A) Tonk and Sawai Madhopur
(B) Kota and Baran
(C) Jhalawar and Baran
(D) Dungarpur and Banswara
50. Which among the following (Topography - Location) is not correctly matched?
- (A) Oriya Plateau - Mt. Abu
(B) Bhakar - Eastern Sirohi
(C) Lasadia Plateau - Rajsamand
(D) Bhorat Plateau - Between Kumbhalgarh to Gogunda
43. निम्नलिखित पहाड़ियों में से कौन सी 'सतपुड़ा श्रृंखला' का भाग नहीं है?
- (A) राजपीपला (B) महादेव
(C) भारनेर (D) मैकाल
44. भारत के किस राज्य में कुल क्षेत्रफल में वनों का क्षेत्रफल प्रतिशत सर्वाधिक है?
- (A) अरुणाचल प्रदेश (B) नागालैण्ड
(C) मिज़ोरम (D) त्रिपुरा
45. 'शिवसमुद्रम' जलप्रपात किस नदी पर अवस्थित है?
- (A) कावेरी (B) शरावती
(C) गोदावरी (D) पेरियार
46. निम्नलिखित में से राजस्थान के किन जिलों के समूह में मुख्यतः कच्छारी मृदा पाई जाती है?
- (A) भरतपुर - धौलपुर
(B) बांसवाड़ा - डूंगरपुर
(C) कोटा - बूंदी
(D) बीकानेर - जैसलमेर
47. जनगणना 2011 के अनुसार, राजस्थान में लिंगानुपात-
- (A) राष्ट्रीय औसत से 15 बिन्दू कम है।
(B) राष्ट्रीय औसत से 6 बिन्दू अधिक है।
(C) राष्ट्रीय औसत से 6 बिन्दू कम है।
(D) राष्ट्रीय औसत से 11 बिन्दू कम है।
48. 2011 की जनगणना के अनुसार, राजस्थान की कुल जनसंख्या में अनुसूचित जनजाति की जनसंख्या का प्रतिशत है -
- (A) 14.8 (B) 16.9
(C) 13.5 (D) 13.3
49. 'ईसरदा बाँध परियोजना' किन जिलों में निर्मित किया गया है?
- (A) टोंक और सवाई माधोपुर
(B) कोटा और बारां
(C) झालावाड़ और बारां
(D) डूंगरपुर और बांसवाड़ा
50. निम्नांकित में से कौनसा (स्थलाकृति - अवस्थिति) सही सुमेलित नहीं है?
- (A) उड़िया पठार - मा. आबू
(B) भाकर - पूर्वी सिरोही
(C) लसाड़िया पठार - राजसमन्द
(D) भोराट पठार - कुम्भलगढ़ से गोगुन्दा के मध्य



51. In which of the following districts of Rajasthan the 'Inceptisols soil' is found?
 (A) Kota, Bundi and Baran
 (B) Pali, Bhilwara and Sirohi
 (C) Jaipur, Dausa and Alwar
 (D) Jaisalmer, Barmer and Bikaner
52. Which (Mineral – Mining Area) is not a correct match?
 (A) Rock Phosphate – Jhamar-Kotra
 (B) Manganese – Kala-Khunta
 (C) Garnet – Kalaguman
 (D) Iron Ore – Morija-Dabla
53. In which district Shergarh Wildlife Sanctuary is situated?
 (A) Bundi (B) Baran
 (C) Sawai Madhopur (D) Karauli
54. Which is the largest agro – climatic region of Rajasthan?
 (A) Arid western plains
 (B) Hyper arid partial irrigated zone
 (C) Internal drainage dry zone
 (D) Sub humid southern plains
55. 'Bithadi Wind Energy Project' is established in which district of Rajasthan?
 (A) Jaisalmer (B) Bikaner
 (C) Chittorgarh (D) Jodhpur
56. In which districts of Rajasthan, population density is found to be less than 100 persons per square kilometre (According to Census - 2011)?
 (A) Jaisalmer, Barmer and Jodhpur
 (B) Jaisalmer, Barmer and Bikaner
 (C) Jaisalmer, Pali and Barmer
 (D) Jaisalmer, Pali and Jodhpur
57. In which year, Rajasthan State Environment Policy was declared?
 (A) 2008 (B) 2010
 (C) 2013 (D) 2018
58. Maize is produced largely in which part of Rajasthan?
 (A) South and South East (B) Central
 (C) Eastern (D) Northern
51. राजस्थान के निम्नलिखित में से किन जिलों में 'इन्सेप्टीसोल्स मृदा' पायी जाती है?
 (A) कोटा, बूंदी और बारां
 (B) पाली, भीलवाड़ा और सिरौही
 (C) जयपुर, दौसा और अलवर
 (D) जैसलमेर, बाड़मेर और बीकानेर
52. कौनसा (खनिज – खनन क्षेत्र) सही सुमेलित नहीं है?
 (A) रॉक फॉस्फेट – जामर-कोटड़ा
 (B) मैंगनीज़ – काला-खूंटा
 (C) तामड़ा – कालागुमान
 (D) लौह अयस्क – मोरीजा-डाबला
53. शेरगढ़ वन्यजीव अभ्यारण्य किस जिले में स्थित है?
 (A) बूंदी (B) बारां
 (C) सवाई माधोपुर (D) करौली
54. राजस्थान का सबसे बड़ा कृषि – जलवायु प्रदेश कौनसा है?
 (A) शुष्क पश्चिमी मैदान
 (B) अति शुष्क आंशिक सिंचित क्षेत्र
 (C) आंतरिक प्रवाह का शुष्क क्षेत्र
 (D) उप आर्द्र दक्षिणी मैदान
55. 'बीथडी पवन ऊर्जा परियोजना' राजस्थान के किस जिले में स्थापित की गई है?
 (A) जैसलमेर (B) बीकानेर
 (C) चित्तौड़गढ़ (D) जोधपुर
56. राजस्थान में कौन से जिलों में जनसंख्या घनत्व 100 व्यक्ति प्रति वर्ग किलोमीटर से कम पाया जाता है (जनगणना – 2011 के अनुसार)?
 (A) जैसलमेर, बाड़मेर और जोधपुर
 (B) जैसलमेर, बाड़मेर और बीकानेर
 (C) जैसलमेर, पाली और बाड़मेर
 (D) जैसलमेर, पाली और जोधपुर
57. राजस्थान राज्य पर्यावरण नीति किस वर्ष में घोषित की गई?
 (A) 2008 (B) 2010
 (C) 2013 (D) 2018
58. राजस्थान के किस भाग में मक्का का सर्वाधिक उत्पादन होता है?
 (A) दक्षिणी तथा दक्षिणी पूर्वी
 (B) मध्यवर्ती
 (C) पूर्वी (D) उत्तरी

59. According to the Census 2011, which district of Rajasthan had the lowest rural sex ratio?
 (A) Jaisalmer (B) Pali
 (C) Tonk (D) Dholpur
60. Khus grass is mainly found in Rajasthan in-
 (A) Bharatpur and Tonk Forest division
 (B) Western Rajasthan
 (C) South-Eastern Rajasthan (Hadoti)
 (D) Abu Mountain region
61. In Rajasthan the quorum to constitute a meeting for the consideration of a no confidence motion against the chairman, Municipal Board shall be.....of the total number of persons entitle to vote thereat.
 (A) Three fourth (3/4) (B) One tenth (1/10)
 (C) One third (1/3) (D) Two third (2/3)
62. Who was the first Protem Speaker of Rajasthan Legislative Assembly?
 (A) Maharao Sangram Singh
 (B) Narayan Singh Masuda
 (C) Poonam Chand Vishnoi
 (D) Yashwant Singh Nahar
63. The Chairman of State Human Rights Commission is appointed by the Governor on the recommendation of a committee, who among the following is not part of that?
 (A) Chief Minister
 (B) Speaker of Legislative Assembly
 (C) Opposition Leader of Legislative Assembly
 (D) Chief Justice of High Court
64. What is the maximum amount that the Rajasthan State Information Commission can impose fine for not giving information?
 (A) 15,000 (B) 20,000
 (C) 25,000 (D) 30,000
65. Who was the first Chairperson of the State Finance Commission in Rajasthan?
 (A) K. K. Goyal (B) Heeralal Devpura
 (C) M. C. Surana (D) S. K. Ghosh
66. When was the Planning Department established in Rajasthan?
 (A) 1953 (B) 1954
 (C) 1955 (D) 1956
59. 2011 की जनगणना के अनुसार, राजस्थान के किस जिले में न्यूनतम ग्रामीण लिंगानुपात था?
 (A) जैसलमेर (B) पाली
 (C) टोंक (D) धौलपुर
60. खस की घास मुख्य रूप से राजस्थान में पाई जाती है -
 (A) भरतपुर और टोंक वन विभाग में
 (B) पश्चिमी राजस्थान में
 (C) दक्षिण-पूर्वी राजस्थान (हाड़ौती) में
 (D) आबू पर्वत क्षेत्र में
61. राजस्थान में नगर पालिका, अध्यक्ष के विरुद्ध अविश्वास के प्रस्ताव पर विचार करने के लिए किसी बैठक के गठन के लिए गणपूर्ति उसमें मतदान के हकदार व्यक्तियों की कुल संख्या की.....होगी।
 (A) तीन चौथाई (3/4) (B) दसवाँ भाग (1/10)
 (C) एक तिहाई (1/3) (D) दो तिहाई (2/3)
62. राजस्थान विधान सभा के प्रथम प्रोटेम स्पीकर कौन थे?
 (A) महाराव संग्राम सिंह
 (B) नारायण सिंह मसुदा
 (C) पूनम चंद विश्नोई
 (D) यशवंत सिंह नाहर
63. राज्य मानवाधिकार आयोग के अध्यक्ष की नियुक्ति राज्यपाल द्वारा एक समिति की सिफारिश पर की जाती है, जिसमें कौन शामिल नहीं होता है?
 (A) मुख्यमंत्री
 (B) विधानसभा अध्यक्ष
 (C) विधानसभा का विपक्ष का नेता
 (D) उच्च न्यायालय का मुख्य न्यायाधीश
64. राजस्थान राज्य सूचना आयोग सूचना नहीं देने पर अधिकतम कितनी राशि का जुर्माना आरोपित कर सकता है?
 (A) 15,000 (B) 20,000
 (C) 25,000 (D) 30,000
65. राजस्थान में राज्य वित्त आयोग के प्रथम अध्यक्ष कौन थे?
 (A) के. के. गोयल (B) हीरालाल देवपुरा
 (C) एम. सी. सुराणा (D) एस. के. घोष
66. राजस्थान में नियोजन विभाग की स्थापना कब हुई?
 (A) 1953 (B) 1954
 (C) 1955 (D) 1956

67. Read the statements carefully –
 (I) Tikaram Paliwal is the only Chief Minister who has also been a Deputy Chief Minister in Rajasthan.
 (II) Hari Shankar Bhabhra has been the Deputy Chief Minister of Rajasthan for the longest time till now.
 Which of the following option is correct?
 (A) Only statement I is correct
 (B) Only statement II is correct
 (C) Both statements I and II are correct
 (D) Both statements I and II are incorrect
68. In how many days an appeal can be made to the second appellate authority against the decision of the first appellate authority under the Rajasthan Public Service Guarantee Act, 2011?
 (A) 15 Days (B) 30 Days
 (C) 45 Days (D) 60 Days
69. The Governor of Rajasthan is the ex-officio Chancellor of -
 (A) All the State Universities as well as all the Central Universities working in the territory of Rajasthan.
 (B) All the State as well as Private Universities of Rajasthan.
 (C) All the State Universities of Rajasthan.
 (D) All the State and Private Universities as well as Central Universities working in the territory of Rajasthan.
70. President's rule was imposed for the maximum number of times during the tenure of which of the following Chief Minister of Rajasthan?
 (A) Bhairon Singh Shekhawat
 (B) Mohan Lal Sukhadia
 (C) Haridev Joshi
 (D) Shiv Charan Mathur
71. The 'NIPUN Bharat Mission' is being implemented by -
 (A) Ministry of Education
 (B) Ministry of Micro, Small and Medium Enterprises
 (C) Ministry of Labour & Employment
 (D) Ministry of Science & Technology
67. कथनों को ध्यानपूर्वक पढ़िए –
 (I) टीकाराम पालीवाल राजस्थान में एकमात्र ऐसे मुख्यमंत्री हैं, जो उपमुख्यमंत्री भी रहे हैं।
 (II) हरिशंकर भाभड़ा राजस्थान में अब तक सबसे लम्बे समय तक उपमुख्यमंत्री रहे हैं।
 निम्न में से कौनसा विकल्प सही है?
 (A) केवल कथन I सही है
 (B) केवल कथन II सही है
 (C) I व II दोनों कथन सही हैं
 (D) I व II दोनों कथन गलत हैं
68. राजस्थान लोकसेवा गारंटी अधिनियम, 2011 के अंतर्गत प्रथम अपीलीय प्राधिकारी के निर्णय के विरुद्ध कितने दिनों में द्वितीय अपीलीय प्राधिकारी को अपील की जा सकती है?
 (A) 15 दिन (B) 30 दिन
 (C) 45 दिन (D) 60 दिन
69. राजस्थान के राज्यपाल पदेन कुलाधिपति होते हैं –
 (A) समस्त राज्य विश्वविद्यालयों के साथ ही राजस्थान के भू-भाग में कार्यरत केन्द्रीय विश्वविद्यालयों के।
 (B) राजस्थान के समस्त राज्य के साथ ही निजी विश्वविद्यालयों के।
 (C) राजस्थान के समस्त राज्य विश्वविद्यालयों के।
 (D) समस्त राज्य एवं निजी विश्वविद्यालयों के साथ ही राजस्थान के भू-भाग में कार्यरत केन्द्रीय विश्वविद्यालयों के।
70. निम्न में से राजस्थान के किस मुख्यमंत्री के कार्यकाल में सर्वाधिक बार राष्ट्रपति शासन लगाया गया?
 (A) भैरों सिंह शेखावत
 (B) मोहन लाल सुखाड़िया
 (C) हरीदेव जोशी
 (D) शिवचरण माथुर
71. 'निपुण भारत मिशन' कार्यान्वित किया जा रहा है –
 (A) शिक्षा मंत्रालय द्वारा
 (B) सूक्ष्म, लघु एवं मध्यम उद्यम मंत्रालय द्वारा
 (C) श्रम एवं रोजगार मंत्रालय द्वारा
 (D) विज्ञान एवं प्रौद्योगिकी मंत्रालय द्वारा

72. The one rupee note bears the signature of the -
 (A) Finance Minister (B) Prime Minister
 (C) Governor, RBI (D) Secretary, Ministry of Finance
73. The motive of e-SHRAM portal is -
 (A) to create a National Database of unorganised workers
 (B) to create a National Database of organised workers
 (C) to educate workers
 (D) to do online payment of workers
74. Who is a chairman of 15th Finance Commission of India?
 (A) Nirmala Sitaraman (B) Dr. Ashok Lahiri
 (C) N. K. Singh (D) Ajay Narayan
75. The National Mission for Saffron has been launched as a sub - scheme of which among the following programmes?
 (A) National Food Security Mission
 (B) National Cash Crop Programme
 (C) National Horticulture Mission
 (D) Rashtriya Krishi Vikas Yojana
76. Who wrote the book 'Planned Economy for India'?
 (A) M. Visvesvaraya (B) Pt. Jawahar Lal Nehru
 (C) Mahatma Gandhi (D) Man Mohan Singh
77. Which of the following is related to green revolution in India?
 (A) Environment Protection
 (B) High Yielding Variety of Seeds
 (C) Green House Effect
 (D) Calculation of Green GNP
78. In which year the concept of Multidimensional Poverty Index was introduced?
 (A) 2010 (B) 2011
 (C) 2000 (D) 2008
79. Which among the following is the quantitative method of credit control by the Central Bank?
 (A) Marginal requirements
 (B) Credit rationing
 (C) Direct action (D) Bank rate
72. एक रुपये के नोट पर किसके हस्ताक्षर होते हैं?
 (A) वित्त मंत्री (B) प्रधानमंत्री
 (C) गवर्नर, आर. बी. आई. (D) सचिव, वित्त मंत्रालय
73. ई-श्रम पोर्टल का उद्देश्य है -
 (A) असंगठित कामगारों का एक राष्ट्रीय डेटाबेस बनाना
 (B) संगठित कामगारों का एक राष्ट्रीय डेटाबेस बनाना
 (C) कामगारों को शिक्षित करना
 (D) कामगारों को ऑनलाइन भुगतान करना
74. 15वें वित्तीय आयोग के अध्यक्ष कौन हैं?
 (A) निर्मला सीतारमण (B) डॉ. अशोक लाहिड़ी
 (C) एन. के. सिंह (D) अजय नारायण
75. राष्ट्रीय केसर मिशन निम्नलिखित में से किसकी उप-योजना के रूप में लांच किया गया?
 (A) राष्ट्रीय खाद्य सुरक्षा मिशन
 (B) राष्ट्रीय नकदी फसल प्रोग्राम
 (C) राष्ट्रीय बागवानी मिशन
 (D) राष्ट्रीय कृषि विकास योजना
76. 'प्लान्ड इकोनॉमी फॉर इंडिया' पुस्तक किसने लिखी?
 (A) एम. विश्वेश्वरैया (B) पं. जवाहर लाल नेहरू
 (C) महात्मा गांधी (D) मनमोहन सिंह
77. निम्नलिखित में से कौनसा भारत में हरित क्रांति से संबंधित है?
 (A) पर्यावरण संरक्षण
 (B) उच्च उत्पादकता किस्मों के बीज
 (C) हरित गृह प्रभाव
 (D) हरित जी.एन.पी. की गणना
78. बहुआयामी गरीबी सूचकांक की अवधारणा किस वर्ष शुरू की गई थी?
 (A) 2010 (B) 2011
 (C) 2000 (D) 2008
79. केन्द्रीय बैंक द्वारा निम्न में से कौनसी साख नियंत्रण की परिमाणात्मक विधि है?
 (A) सीमांत आवश्यकताएं (B) ऋण राशनिंग
 (C) प्रत्यक्ष कार्यवाही (D) बैंक दर

80. How many districts were included in 'Intensive Agriculture District Programme' in 1960-61?
 (A) 7 Districts (B) 8 Districts
 (C) 9 Districts (D) 10 Districts
81. Which system is currently being adopted in the field of Economic Planning in Rajasthan?
 (A) Federal Economic System
 (B) Centralized Economic System
 (C) Public Economic System
 (D) District Level Economic System
82. Which scheme has been implemented on the lines of MGNREGA to provide financial support to the families residing in the limits of urban bodies of Rajasthan?
 (A) Rajeev Gandhi Urban Employment Guarantee Scheme
 (B) Deen Dayal Upadhyay Urban Employment Guarantee Scheme
 (C) Indira Gandhi Urban Employment Guarantee Scheme
 (D) Mukhyamantri Shahari Rojgar Yojana
83. In which district of Rajasthan, in the latest survey of Geological Survey of India 2021, huge deposits of cement grade limestone have been found?
 (A) Jhalawar (B) Jaisalmer
 (C) Chittorgarh (D) Pali
84. Match these –
 (1) Ajrakh Print (I) Kaithun
 (2) Power loom fabric printing (II) Jodhpur
 (3) Mothda (III) Balotara
 (4) Masuria (IV) Barmer
 Choose the correct option –
 (A) (1) – (I), (2) – (II), (3) – (III), (4) – (IV)
 (B) (1) – (II), (2) – (III), (3) – (IV), (4) – (I)
 (C) (1) – (IV), (2) – (III), (3) – (II), (4) – (I)
 (D) (1) – (III), (2) – (IV), (3) – (I), (4) – (II)
85. Which of the following (Irrigation Project - District) is not matched correctly?
 (A) Savan-Bhado – Kota
 (B) Som Kagdar – Udaipur
 (C) Parvan lift – Jaipur
 (D) Som-Kamla-Amba – Dungarpur
80. सन् 1960-61 में, 'गहन कृषि जिला कार्यक्रम' के अंतर्गत कितने जिलों को समाहित किया गया?
 (A) सात जिले (B) आठ जिले
 (C) नौ जिले (D) दस जिले
81. वर्तमान में राजस्थान में आर्थिक नियोजन के क्षेत्र में किस प्रणाली को अपनाया जा रहा है?
 (A) संघीय आर्थिक प्रणाली
 (B) केन्द्रीयकृत आर्थिक प्रणाली
 (C) सार्वजनिक आर्थिक प्रणाली
 (D) जिला स्तरीय आर्थिक प्रणाली
82. मनरेगा की तर्ज पर राजस्थान के शहरी निकायों की सीमा में रहने वाले परिवारों को वित्तीय सहयोग के लिए कौनसी योजना लागू की गई है?
 (A) राजीव गाँधी शहरी रोजगार गारन्टी योजना
 (B) दीन दयाल उपाध्याय शहरी रोजगार गारन्टी योजना
 (C) इंदिरा गाँधी शहरी रोजगार गारन्टी योजना
 (D) मुख्यमंत्री शहरी रोजगार योजना
83. राजस्थान के किस जिले में, जियो लॉजिकल सर्वे ऑफ इण्डिया 2021 के नवीनतम सर्वेक्षण में, सीमेंट ग्रेड लाइमस्टोन के विशाल भण्डार मिले हैं?
 (A) झालावाड़ (B) जैसलमेर
 (C) चित्तौड़गढ़ (D) पाली
84. सुमेलित कीजिये –
 (1) अजरख प्रिंट (I) कैथून
 (2) पावरलूम कपड़ों पर छपाई (II) जोधपुर
 (3) मोठडा (III) बालोतरा
 (4) मसूरिया (IV) बाड़मेर
 सही विकल्प चुनें –
 (A) (1) – (I), (2) – (II), (3) – (III), (4) – (IV)
 (B) (1) – (II), (2) – (III), (3) – (IV), (4) – (I)
 (C) (1) – (IV), (2) – (III), (3) – (II), (4) – (I)
 (D) (1) – (III), (2) – (IV), (3) – (I), (4) – (II)
85. निम्नलिखित में से कौन सा (सिंचाई परियोजना – जिला) सुमेलित नहीं है?
 (A) सावन-भादो – कोटा
 (B) सोम कागदर – उदयपुर
 (C) परवन लिफ्ट – जयपुर
 (D) सोम-कमला-अम्बा – डूंगरपुर



86. The 'BHOR' program which is being run with the co-ordination of the Police Commissionerate, Jaipur, is aimed at -
 (A) Eradication of child labour
 (B) Rehabilitation of beggars
 (C) De-addiction
 (D) Rehabilitation of criminals
87. What is the place of Rajasthan in the production of groundnut in India?
 (A) Second (B) First
 (C) Third (D) Fourth
88. How much share of the center and the state has been kept for the financial arrangement of the Drought Prone Area Programme (DPAP) operated in Rajasthan?
 (A) 50:50 (B) 60:40
 (C) 75:25 (D) 90:10
89. Where was the first cement factory established in Rajasthan?
 (A) Lakheri (B) Dabok
 (C) Beawar (D) Gotan
90. Which of the following is not a proposed beneficiary district of Indira Gandhi Nahar Project (IGNP)?
 (A) Pali (B) Sikar
 (C) Nagaur (D) Jodhpur
91. 'PARAKH', recently seen in news is related to which of the following?
 (A) Education (B) Banking
 (C) Health (D) Industry
92. Where did the subsidiary of Adani Hybrid Energy setup India's first wind-solar hybrid power plant?
 (A) Raipur (B) Hyderabad
 (C) Delhi (D) Jaisalmer
86. 'भोर' (बी.एच.ओ.आर.) कार्यक्रम जो कि पुलिस आयुक्तालय जयपुर के समन्वय से चलाया जा रहा है, का उद्देश्य है -
 (A) बाल श्रम का उन्मूलन
 (B) भिक्षुओं का पुनर्वास
 (C) नशामुक्ति
 (D) अपराधियों का पुनर्वास
87. मूंगफली के उत्पादन में राजस्थान का भारत में कौनसा स्थान है?
 (A) द्वितीय (B) प्रथम
 (C) तृतीय (D) चतुर्थ
88. राजस्थान में संचालित सूखा संभाव्य क्षेत्र कार्यक्रम (डी.पी.ए.पी.) की वित्तीय व्यवस्था के लिए केन्द्र एवं राज्य का हिस्सा कितना रखा गया है?
 (A) 50:50 (B) 60:40
 (C) 75:25 (D) 90:10
89. राजस्थान में सीमेंट का प्रथम कारखाना कहाँ स्थापित हुआ था?
 (A) लाखेरी (B) डबोक
 (C) ब्यावर (D) गोटन
90. निम्न में से कौन इंदिरा गांधी नहर परियोजना का प्रस्तावित लाभार्थी जिला नहीं है?
 (A) पाली (B) सीकर
 (C) नागौर (D) जोधपुर
91. हाल ही में खबरों में रहा 'परख' निम्नलिखित में से किससे संबंधित है?
 (A) शिक्षा (B) बैंकिंग
 (C) स्वास्थ्य (D) उद्योग
92. अडानी हाइब्रिड एनर्जी की सहायक कंपनी ने किस स्थान पर भारत का पहला पवन-सौर हाइब्रिड पावर प्लांट स्थापित किया?
 (A) रायपुर (B) हैदराबाद
 (C) दिल्ली (D) जैसलमेर

93. Which of the following statement is true?
 (i) Jagdeep Dhankhar sworn in as the 14th Vice-President of India on 6th August, 2022 (According to person).
 (ii) Jagdeep Dhankhar belongs to Jhunjhunu district and is the second person from Rajasthan to become the Vice-President.
 (iii) He has been also a Lok Sabha M. P., a member of the Rajasthan Legislative Assembly and the Governor of West Bengal.
 (iv) At present the Speaker of both the House of the Parliament is from Rajasthan.
 (A) ii, iii (B) ii, iii, iv
 (C) i, ii, iii (D) i, ii, iii, iv
94. Who is the Secretary-General of United Nations at present?
 (A) Antonio Guterres (B) Ban Ki-moon
 (C) Perez de Cuellar (D) Kofi Annan
95. Border Security Force has launched which operation at Rajasthan border in January, 2022?
 (A) Operation Shakti (B) Operation Kranti
 (C) Operation Sard (D) Operation Pawan Hawa
96. 32nd Bihar Puraskar was awarded to Dr. Madhav Hada by K. K. Birla Foundation for which of his literary work?
 (A) Pachrang Chola Pahar Sakhi ri
 (B) Hum Yahan The
 (C) Taslima : Sangharsh Aur Sahitya
 (D) Aankh Heenyai Ra Hariyal Sapana
97. Which of the following Railway station has been awarded Platinum Green Railway Station rating recently?
 (A) Hyderabad (B) Ajmer
 (C) Mumbai (D) Jodhpur
98. 108th Indian Science Congress scheduled to be held in January 2023 at -
 (A) Bangalore (B) Udaipur
 (C) Agartala (D) Nagpur
93. निम्नांकित में से कौन सा कथन सत्य है?
 (i) 6 अगस्त, 2022 को जगदीप धनखड़ ने भारत के 14वें उपराष्ट्रपति के रूप में शपथ ली (व्यक्ति के अनुसार)
 (ii) जगदीप धनखड़ का संबंध झुंझुनू जिले से है तथा राजस्थान से उपराष्ट्रपति बनने वाले दूसरे व्यक्ति हैं।
 (iii) यह लोकसभा सांसद, राजस्थान विधानसभा के सदस्य व पश्चिम बंगाल के राज्यपाल भी रहे हैं।
 (iv) वर्तमान में संसद के दोनों ही सदनों के अध्यक्ष राजस्थान से हैं।
 (A) ii, iii (B) ii, iii, iv
 (C) i, ii, iii (D) i, ii, iii, iv
94. वर्तमान में संयुक्त राष्ट्र संघ के महासचिव कौन हैं?
 (A) एण्टोनियो गुटेरेस (B) बान की-मून
 (C) पेरेज़ दी कुएलर (D) कोफी अन्नान
95. सीमा सुरक्षा बल द्वारा जनवरी, 2022 में राजस्थान की सीमा पर कौन सा अभियान चलाया गया?
 (A) ऑपरेशन शक्ति (B) ऑपरेशन क्रांति
 (C) ऑपरेशन सर्द हवा (D) ऑपरेशन पवन
96. के. के. बिड़ला फाउंडेशन द्वारा 32वाँ बिहारी पुरस्कार, डॉ. माधव हाड़ा को प्रदान किया गया, उनकी किस कृति के लिए?
 (A) पचरंग चोला पहर सखी री
 (B) हम यहाँ थे
 (C) तस्लीमा : संघर्ष और साहित्य
 (D) आंख हींयै रा हरियल सपना
97. निम्न में से किस रेल्वे स्टेशन को हाल ही में प्लेटिनम ग्रीन रेल्वे स्टेशन रेटिंग दी गई है?
 (A) हैदराबाद (B) अजमेर
 (C) मुंबई (D) जोधपुर
98. जनवरी 2023 में 108वीं इंडियन साइंस कांग्रेस आयोजित होगी -
 (A) बैंगलोर में (B) उदयपुर में
 (C) अगरतला में (D) नागपुर में

99. Recently (on 9th April, 2022), who among the following folk music artist of Rajasthan was awarded 'Sangeet Natak Akademy Award'?
- (A) Kheta Khan (B) Dapu Khan
(C) Gazi Khan Barna (D) Mame Khan
100. Who is winner of women's singles in French Open - 2022?
- (A) Iga Swiatek (B) Caroline Garcia
(C) Kristina Mladenovic (D) C. Gauff
101. Which one of the following groups contains graphical file extensions?
- (A) JPG, CPX, GCM
(B) GIF, TCE, WMF
(C) TCP, JPG, BMP
(D) JPG, GIF, BMP
102. Match column – I and column – II -
- Column – I**
- (a) Bar codes
(b) OMR
(c) MICR
(d) QR Code
(e) OCR
- Column – II**
- (1) Objective type tests
(2) Online payments
(3) Departmental store labels
(4) Cheques in banks
(5) Translating printed page to editable text
- (A) (a)-(3), (b)-(1), (c)-(4), (d)-(2), (e)-(5)
(B) (a)-(2), (b)-(4), (c)-(5), (d)-(1), (e)-(3)
(C) (a)-(3), (b)-(1), (c)-(2), (d)-(5), (e)-(4)
(D) (a)-(4), (b)-(1), (c)-(5), (d)-(3), (e)-(2)
103. In context of MS-Word – 2019, the key stroke to go to the location of the last change -
- (A) Alt + F6 (B) Ctrl + F7
(C) Shift+ F5 (D) Ctrl + Shift + F8
104. Which of the following is correct formula in MS-Excel?
- (A) = POWER (2^3) (B) = POWER (2,3)
(C) = POWER (2*3) (D) = POWER (2#3)
99. हाल ही में (9 अप्रैल, 2022 को) राजस्थान के निम्नलिखित में से किस लोक संगीत कलाकार को 'संगीत नाटक अकादमी पुरस्कार' प्रदान किया गया?
- (A) खेता खान (B) दापू खान
(C) गाजी खान बरना (D) मामे खान
100. फ्रेंच ओपन – 2022 में महिला एकल की विजेता कौन हैं?
- (A) इगा स्विआतेक (B) कैरोलिन गार्सिया
(C) क्रिस्टीना म्लादेनोविक (D) सी. गौफ
101. निम्नलिखित में से किस समूह में ग्राफिकल फाइल एक्सटेंशन है?
- (A) जे.पी.जी., सी.पी.एक्स., जी.सी.एम.
(B) जी.आई.एफ., टी.सी.ई., डब्ल्यू.एम.एफ.
(C) टी.सी.पी., जे.पी.जी., बी.एम.पी.
(D) जे.पी.जी., जी.आई.एफ., बी.एम.पी.
102. स्तम्भ – I तथा स्तम्भ – II का मिलान करें –
- स्तम्भ – I**
- (a) बार कोड्स
(b) ओ.एम.आर.
(c) एम.आई.सी.आर.
(d) क्यू.आर. कोड
(e) ओ.सी.आर.
- स्तम्भ – II**
- (1) वस्तुनिष्ठ प्रकार की परीक्षाएं
(2) ऑनलाइन पेमेंट्स
(3) डिपार्टमेंटल स्टोर के लेबल
(4) बैंक के चेक
(5) छपे हुए पेज का एडिटेबल टेक्स्ट में रूपान्तरण
- (A) (a)-(3), (b)-(1), (c)-(4), (d)-(2), (e)-(5)
(B) (a)-(2), (b)-(4), (c)-(5), (d)-(1), (e)-(3)
(C) (a)-(3), (b)-(1), (c)-(2), (d)-(5), (e)-(4)
(D) (a)-(4), (b)-(1), (c)-(5), (d)-(3), (e)-(2)
103. एम.एस.–वर्ड – 2019 के संदर्भ में, अंतिम परिवर्तन के स्थान पर जाने के लिए, की स्ट्रोक है –
- (A) ऑल्ट + F6 (B) कन्ट्रोल + F7
(C) शिफ्ट + F5 (D) कन्ट्रोल + शिफ्ट + F8
104. एम.एस.–एक्सेल में निम्न में से कौनसा सही फॉर्मूला है?
- (A) = POWER (2^3) (B) = POWER (2,3)
(C) = POWER (2*3) (D) = POWER (2#3)



105. NTFS stands for and it was developed by
- (A) New Technology File System; Apple
(B) Network Technology File System; Apple
(C) New Technology File System; Microsoft
(D) Network Technology File System; Intel
106. Consider the following statements about Li-Fi-
- (i) It uses normal bulbs to transfer data.
(ii) This technology uses visible spectrum of light.
(iii) The speed of Li-Fi is slower than Wi-Fi.
(iv) It is expected to be cheaper than Wi-Fi.
- Choose the correct statement -
- (A) (i) and (ii) (B) (ii) and (iii)
(C) (iii) and (iv) (D) (ii) and (iv)
107. Choose the correct statement related to Biodiversity -
- (A) Biodiversity increases towards the Equator
(B) Biodiversity increases towards higher latitudes
(C) Biodiversity is found equally on earth
(D) High Himalayan regions have the highest biodiversity in the world
108. Comma – Shaped Bacteria is called as –
- (A) Bacilli (B) Cocci
(C) Vibrio (D) Spirillum
109. The resistance of a parallel circuit consisting of two branches is 12 Ohm. If the resistance of one branch is 18 Ohm, what is the resistance of the other?
- (A) 18 Ohm (B) 36 Ohm
(C) 48 Ohm (D) 64 Ohm
110. When an object falls freely towards the earth, then its total energy -
- (A) increases (B) decrease
(C) remains constant (D) first increases then decreases
105. NTFS का मतलब है और इसे द्वारा विकसित किया गया था।
- (A) न्यू टेक्नोलॉजी फाइल सिस्टम; एप्पल
(B) नेटवर्क टेक्नोलॉजी फाइल सिस्टम; एप्पल
(C) न्यू टेक्नोलॉजी फाइल सिस्टम; माइक्रोसॉफ्ट
(D) नेटवर्क टेक्नोलॉजी फाइल सिस्टम; इन्टेल
106. लाई – फाई के बारे में निम्नलिखित कथनों पर विचार करें –
- (i) डेटा ट्रांसफर करने के लिए यह सामान्य बल्ब का उपयोग करता है।
(ii) यह तकनीक प्रकाश के दृश्यमान स्पेक्ट्रम का उपयोग करती है।
(iii) लाई-फाई की गति वाई-फाई की तुलना में धीमी है।
(iv) लाई-फाई, वाई-फाई से सस्ती तकनीकी होगी। सही वाक्य का चयन कीजिए –
- (A) (i) और (ii) (B) (ii) और (iii)
(C) (iii) और (iv) (D) (ii) और (iv)
107. जैव विविधता से सम्बन्धित सही कथन का चयन करें –
- (A) जैव विविधता भूमध्य रेखा की ओर बढ़ती है
(B) जैव विविधता उच्चतर अक्षांशों की तरफ बढ़ती है
(C) पृथ्वी पर जैव विविधता एक समान पाई जाती है
(D) उच्च हिमालयी क्षेत्रों में विश्व की सर्वाधिक जैव विविधता है
108. अल्पविराम के आकार के जीवाणु कहलाते हैं –
- (A) बेसिलाई (B) कोकाई
(C) विब्रियो (D) स्पाइरिलम
109. दो शाखाओं वाले समानांतर परिपथ का प्रतिरोध 12 ओम है। यदि एक शाखा का प्रतिरोध 18 ओम है, तो दूसरी शाखा का प्रतिरोध क्या है?
- (A) 18 ओम (B) 36 ओम
(C) 48 ओम (D) 64 ओम
110. यदि कोई वस्तु स्वतंत्र रूप से पृथ्वी पर गिरती है, तो उसकी कुल ऊर्जा –
- (A) बढ़ती है (B) घटती है
(C) स्थिर रहती है (D) पहले बढ़ती है, फिर घटती है

111. Match the chemical substances given in column (I) with their appropriate application given in column (II).

Column (I)

- (a) Bleaching powder
(b) Baking soda
(c) Washing soda
(d) Sodium chloride

Column (II)

- (i) Preparation of glass
(ii) Production of H_2 and Cl_2
(iii) Decolourisation
(iv) Antacid
(A) a – (ii), b – (i), c – (iv), d – (iii)
(B) a – (iii), b – (ii), c – (iv), d – (i)
(C) a – (i), b – (ii), c – (iii), d – (iv)
(D) a – (iii), b – (iv), c – (i), d – (ii)

112. Consider the following –

1. Methane
2. Nitrous Oxide
3. Halons

Which of the above is/are responsible for depletion of stratospheric ozone?

- (A) 1 and 2 only (B) 1, 2 and 3
(C) 3 only (D) 1 only



113. What does 'OTEC' stand for?
(A) Oil and Thermal Evolution Convention
(B) Ocean and Tide Electric Conservation
(C) Ocean Thermal Energy Conversion
(D) Oil and Thermal Energy Conservation

114. The is at its largest in children, but with the onset of puberty, it eventually shrinks and gets replaced by fat.

- (A) Parathyroid gland (B) Thymus
(C) Hypothalamus (D) Pituitary gland

115. Choose the right statement / statements about ISRO –

- (1) ISRO built India's first satellite, Aryabhat, which was launched by USA in 1975.
(2) Antrix Corporation is the marketing arm of ISRO.
(3) Master Control Facility of ISRO is situated in Hassan.

- (A) 1, 2, 3 (B) 2, 3
(C) 1, 3 (D) 1, 2

111. कॉलम (I) में दिए गए रासायनिक पदार्थों का कॉलम (II) में दिए गए उपयुक्त अनुप्रयोग से मिलान करें।

कॉलम (I)

- (a) ब्लीचिंग पाउडर
(b) बेकिंग सोडा
(c) वॉशिंग सोडा
(d) सोडियम क्लोराइड

कॉलम (II)

- (i) कांच बनाने में
(ii) H_2 और Cl_2 के उत्पादन में
(iii) विरंजनीकरण में
(iv) एंटासिड
(A) a – (ii), b – (i), c – (iv), d – (iii)
(B) a – (iii), b – (ii), c – (iv), d – (i)
(C) a – (i), b – (ii), c – (iii), d – (iv)
(D) a – (iii), b – (iv), c – (i), d – (ii)

112. निम्न पर विचार करें –

1. मीथेन
2. नाइट्रस ऑक्साइड
3. हेलोन्स

निम्न में से कौन समतापमंडलीय ओजोन के ह्रास के लिए उत्तरदायी है/हैं?

- (A) केवल 1 और 2 (B) 1, 2 और 3
(C) केवल 3 (D) केवल 1

113. 'OTEC' का अर्थ है –

- (A) ऑइल एण्ड थर्मल एवोल्यूशन कन्वेंशन
(B) ओशन एण्ड टाइड इलेक्ट्रिक कन्जर्वेशन
(C) ओशन थर्मल एनर्जी कन्वर्शन
(D) ऑइल एण्ड थर्मल एनर्जी कन्जर्वेशन

114. बच्चों में सबसे बड़ा होता है, लेकिन यौवन की शुरुआत के साथ, यह अंततः सिकुड़ जाता है और वसा द्वारा प्रतिस्थापित हो जाता है।

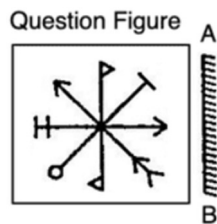
- (A) पैराथाइरॉइड ग्रंथि (B) थाइमस
(C) हाइपोथैलेमस (D) पिट्यूटरी ग्रंथि

115. इसरो (ISRO) के बारे में सही कथन/कथनों का चयन कीजिए –

- (1) इसरो द्वारा पहले भारतीय उपग्रह का निर्माण किया गया और इसे 1975 में यू.एस.ए. (USA) द्वारा प्रक्षेपित किया गया।
(2) एन्ड्रिक्स कॉरपोरेशन इसरो की विपणन शाखा है।
(3) इसरो की मास्टर कंट्रोल फेसिलिटी, हासन में स्थित है।

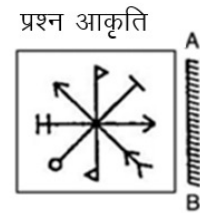
- (A) 1, 2, 3 (B) 2, 3
(C) 1, 3 (D) 1, 2

116. A shopkeeper gives rebate of 20% and 10% successively on print price of a chair. If cost of chair is ₹ 2,000, then how much amount will customer pay?
 (A) 1,400 (B) 1,500
 (C) 1,600 (D) 1,440
117. The average age of a class of 40 students and a teacher reduces by 0.5 years, if we exclude the teacher. If the initial average age is 18 years, then what is the age of the teacher?
 (A) 38 years (B) 40 years
 (C) 39 years (D) 41 years
118. The difference between the simple interest and the compound interest on a certain amount at 5% for two years is ₹ 25, what is the amount?
 (A) ₹ 8000 (B) ₹ 9000
 (C) ₹ 10,000 (D) ₹ 15,000
119. Two candidates fought an election. One of them got 65% of the total votes casted and won by 420 votes. What is the total number of votes polled if no vote is declared invalid?
 (A) 1500 (B) 1400
 (C) 1300 (D) 1200
120. If A's income is $\frac{3}{5}$ times of B's income and C's income is $\frac{6}{5}$ times of B's income then the ratio of C's income to A's income is -
 (A) 1:2 (B) 2:1
 (C) 1:1 (D) 3:1
121. Choose correct mirror image of given question figure when mirror is placed on the line AB -



- (A)
- (B)
- (C)
- (D)

116. एक व्यापारी कुर्सी के अंकित मूल्य पर क्रमशः 20% एवं 10% की छूट देता है। यदि कुर्सी का मूल्य 2,000₹ है, तो ग्राहक को कितना मूल्य चुकाना पड़ेगा?
 (A) 1,400 (B) 1,500
 (C) 1,600 (D) 1,440
117. यदि हम शिक्षक को छोड़ दें, तो 40 छात्रों और एक शिक्षक की कक्षा की औसत आयु 0.5 वर्ष कम हो जाती है। यदि प्रारंभिक औसत आयु 18 वर्ष है, तो शिक्षक की आयु क्या है?
 (A) 38 वर्ष (B) 40 वर्ष
 (C) 39 वर्ष (D) 41 वर्ष
118. एक निश्चित राशि पर 5% की दर से दो वर्षों के लिए साधारण ब्याज और चक्रवृद्धि ब्याज के बीच का अंतर 25 ₹ है, राशि क्या है?
 (A) 8000 ₹ (B) 9000 ₹
 (C) 10,000 ₹ (D) 15,000 ₹
119. दो उम्मीदवारों ने एक चुनाव लड़ा। उनमें से एक ने कुल डाले गये मतों के 65% मत प्राप्त किये और 420 मतों से विजयी हो गया। यदि कोई मत अमान्य घोषित नहीं किया गया, तो डाले गए कुल मतों की संख्या क्या है?
 (A) 1500 (B) 1400
 (C) 1300 (D) 1200
120. यदि A की आय, B की आय से $\frac{3}{5}$ गुना है तथा C की आय, B की आय से $\frac{6}{5}$ गुना है, तो C की आय का A की आय से अनुपात है -
 (A) 1:2 (B) 2:1
 (C) 1:1 (D) 3:1
121. दी गई प्रश्न आकृति का सही दर्पण प्रतिबिम्ब चुनें जब दर्पण को रेखा AB पर रखा जाए -



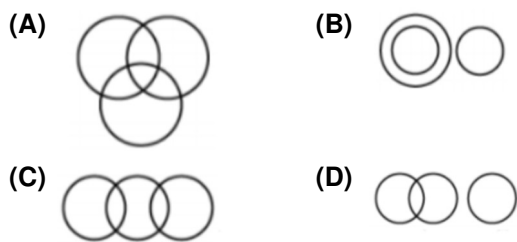
- (A)
- (B)
- (C)
- (D)

122. **Statement** – Quality has a price tag. India is allocating lots of funds to education.

Conclusion – I. Quality of education in India would improve soon
II. Funding alone can enhance quality of education.

- (A) Only conclusion II follows
(B) Only conclusion I follows
(C) Neither I nor II follows
(D) Both I and II follows

123. Which one of the following diagrams represents the relation between Tree, Teak, Salamander?



124. Select the related letters to replace the '?' from the given options -

HJLN : SQOM :: DFHJ : ?



- (A) WUSQ (B) VRQS
(C) XQSQ (D) XRQS

125. Rahul starts walking from point R, which is 16 m to the west of point T. From point R, he walks 20 m to the south, takes a right turn and walks for 10m. He then takes a right turn, walks for 6m and stops at point C. Gaurav starts walking from point A, which is 8 m to the south of point T. From point A, he walks 10m to the East, takes a right turn and walks for 6m. He then takes a right turn walks for 26m and stops at point B. What is the distance between point C and point B?

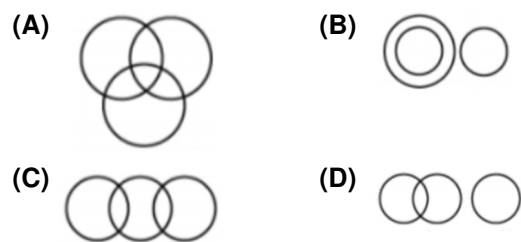
- (A) 15 m (B) 12 m
(C) 10 m (D) 25 m

122. **कथन** – गुणवत्ता का एक मूल्य टैग होता है। भारत शिक्षा के लिए बहुत सारा धन आवंटित कर रहा है।

निष्कर्ष : I. भारत में शिक्षा की गुणवत्ता में जल्द ही सुधार होगा।
II. अकेले वित्त पोषण शिक्षा की गुणवत्ता को बढ़ा सकता है।

- (A) केवल निष्कर्ष II अनुसरण करता है
(B) केवल निष्कर्ष I अनुसरण करता है
(C) न तो I और ना ही II अनुसरण करता है
(D) I और II दोनों अनुसरण करते हैं

123. निम्नलिखित में से कौन-सा आरेख पेड़, सागौन और सैलामेंडर के बीच संबंध का प्रतिनिधित्व करता है?



124. दिए गए विकल्पों में से '?' के स्थान पर संबंधित अक्षरों को चुनिए –

HJLN : SQOM :: DFHJ : ?

- (A) WUSQ (B) VRQS
(C) XQSQ (D) XRQS

125. राहुल बिंदु R से चलना शुरू करता है, जो बिंदु T के पश्चिम में 16 मी. है। बिंदु R से, वह 20 मी. दक्षिण की ओर चलता है, दायें मुड़ता है और 10 मी. चलता है। फिर वह दायें मुड़ता है, 6 मी. चलता है और बिंदु C पर रुक जाता है। गौरव बिंदु A से चलना शुरू करता है, जो बिंदु T के 8 मी. दक्षिण में है। बिंदु A से, वह 10 मी. पूर्व की ओर चलता है, दायें मुड़ता है और 6 मी. चलता है। फिर वह दायें मुड़ता है और 26 मी. चलता है और बिंदु B पर रुक जाता है। बिंदु C और बिंदु B के बीच की दूरी कितनी है?

- (A) 15 मी. (B) 12 मी.
(C) 10 मी. (D) 25 मी.

126. If TRIPPLE is coded as DMOQHSS in a code language, how is VICTORY coded in that language?

- (A) XSNUBJU (B) ZXPSDHW
(C) UJBUNSX (D) WHDSPQZ

127. A is B's sister. C is B's mother. D is C's father. E is D's mother. How is A related to D?

- (A) Grandmother (B) Grandfather
(C) Granddaughter (D) Daughter

128. In a row of 21 men when Manish was shifted by four places towards the right, now he becomes 12th from the left end. What was his earlier position from the right end of the row?

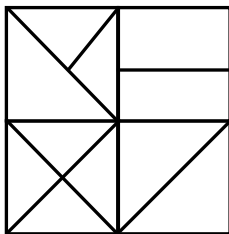
- (A) 14th (B) 12th
(C) 10th (D) 8th

129. Find the wrong number in the given series from the given alternatives -

14, 39, 84, 155, 260

- (A) 39 (B) 84
(C) 155 (D) 260

130. How many triangles are there in the following figure?



- (A) 16 (B) 15
(C) 14 (D) 13

126. किसी सांकेतिक भाषा में यदि TRIPPLE का अर्थ DMOQHSS है, तो उसी भाषा में VICTORY का अर्थ क्या होगा?

- (A) XSNUBJU (B) ZXPSDHW
(C) UJBUNSX (D) WHDSPQZ

127. A, B की बहन है। C, B की माता है। D, C का पिता है। E, D की माता है। A किस प्रकार D से संबंधित है?

- (A) दादी (B) दादा
(C) पौत्री (D) पुत्री

128. 21 पुरुषों की एक पंक्ति में मनीष को दायीं ओर चार स्थान सरकाया गया। अब वह बायीं छोर से 12 वें स्थान पर है। पंक्ति में दायें छोर से उसका पूर्व में स्थान क्या था?

- (A) 14वीं (B) 12वीं
(C) 10वीं (D) 8वीं

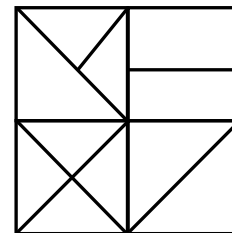
129. दिए गए विकल्पों में से दी गई श्रृंखला में गलत संख्या ज्ञात कीजिए -

14, 39, 84, 155, 260

- (A) 39 (B) 84
(C) 155 (D) 260



130. निम्न चित्र में कितने त्रिभुज हैं?



- (A) 16 (B) 15
(C) 14 (D) 13

131. अयादि स्वर संधि की दृष्टि से असुमेलित विकल्प का चयन कीजिए –
- (A) लो + इत्र = लवित्र (B) विधे + अक = विधायक
(C) गो + एषणा = गवेषणा (D) विनै + अक = विनायक
132. व्यंजन वर्णों के संबंध में कौन – सा विकल्प सुमेलित नहीं है?
- (A) श, ष – संघर्षहीन (B) य, व – अर्धस्वर
(C) च, छ – स्पर्श संघर्षी (D) ग, घ – स्पर्श व्यंजन
133. 'नाटक के अंत में प्रयुक्त मांगलिक पद', के लिए सार्थक शब्द है –
- (A) विदूषक (B) मंगलवाक्य
(C) भरतवाक्य (D) व्याजवाक्य
134. निम्न में से किस विकल्प के सभी शब्दों में उपसर्ग व प्रत्यय दोनों का प्रयोग हुआ है?
- (A) अवगत, अवलंब, अवसित (B) विचारणीय, पारिवारिक, औत्पत्तिक
(C) अवधि, अवज्ञा, अवधूत (D) फेनिल, शामिल, जटिल
135. निम्न में से शुद्ध वाक्य का चयन कीजिए –
- (A) उज्जैन में अनेक दर्शनीय स्थल देखने योग्य हैं। (B) भाषा में धीरे-धीरे शब्द लोप हो जाते हैं।
(C) उसने मेरे शब्दों पर ध्यान नहीं दिया। (D) उसे परमसत्ता पर विश्वास है।
136. किस विकल्प में 'Allocation' शब्द का हिन्दी पारिभाषिक शब्द सही है?
- (A) समायोजन (B) नियतन
(C) निष्ठा (D) संबंधन
137. किस विकल्प में तत्पुरुष समास का प्रयोग नहीं हुआ है?
- (A) सेवानिवृत्त (B) अंधविश्वास
(C) ख्यातिप्राप्त (D) शपथपत्र
138. विलोम शब्द की दृष्टि से संगत विकल्प का चयन कीजिए –
- (A) आज्ञा-अवज्ञा, अधुना-नूतन, अस्ति-नास्ति (B) अधम-उत्तम, अज्ञ-विज्ञ, अग्र-पश्च
(C) अधित्यका-उपत्यका, आगम-अनागत, अभ्र-अन्य (D) ग्राम-ग्राम्य, उदात्त-अनुदात्त, ऐश्वर्य-अनैश्वर्य
139. असंगत विकल्प का चयन कीजिए –
- (A) उसने सेब खाया। – सकर्मक क्रिया
(B) पुलिस ने चोर पकड़वाया। – प्रेरणार्थक क्रिया
(C) माता जी प्रतिदिन बाग में जाते हैं। – रंजक क्रिया
(D) लड़के मैदान में दौड़ रहे हैं। – अकर्मक क्रिया
140. निम्न में से कौनसा शब्द संज्ञा से निर्मित विशेषण नहीं है?
- (A) निंदित (B) चिंतन
(C) दानवीय (D) मानवीय

Direction (141 to 143) : Read the given passage and answer the questions that follow –

Despite the frustrating years of dragging children out of bed and persuading them to go to school, young children have an internal drive to learn about their world, and become industrious and productive individuals. Their educational eagerness and curiosity can either be stifled or encouraged by parents, teachers and other adults. Aware parents can encourage their children’s development of important life skills. Besides teaching them to read and write, school and home environments teach children cooperation and interdependence. Children also engage in important play rituals (like playing with dolls or cops and robbers) which prepare them for adolescence and adulthood. Supportive parents can promote crucial learning of life skills. Above all, school-age children struggle with feeling of inferiority and incompetence when they compare themselves with their peers. If they don’t fit in, they might feel insignificant. Loving and accepting parent’s help these children develop the confidence to create a future where they can thrive and feel good about themselves.

141. The synonym of the word ‘stifled’ given in the passage is –
(A) suppressed (B) inspired
(C) enhanced (D) amplified
142. The antonym of the word ‘curiosity’ given in the passage is -
(A) inquisitiveness (B) apathy
(C) prying (D) intrusiveness
143. Some games prepare the children for:
(A) competition (B) adolescence and adulthood
(C) good health (D) academics
144. Choose the correct Hindi translation of the given sentence –
Mom, could you put my books inside the bag?
(A) माँ, क्या मेरी किताबें आप मेरे बैग में रख सकती हो?
(B) माँ, क्या आपने मेरी किताबें बैग में रख दी हैं?
(C) माँ, क्या आप मेरी किताबें बैग में रख सकती हो?
(D) माँ, क्या मेरे बैग में मेरी किताबें आपने रख दी हैं?
145. Which of the following is/are the correct statement/s regarding letter writing?
(I) ‘Your’s Faithfully’ is used for ending a formal letter.
(II) The right sequence of writing a letter to the editor is - Sender’s address, Receiver’s address, Subject, Salutation, Body of letter, Subscription, Date.
(III) The right format of writing a date in all formal letters is ‘30th May, 2022’ instead of ‘30/05/2022’.
(IV) ‘Yours Truly’ is used for ending an informal letter.
- Code-
- (A) Only II, III and IV are correct (B) Only I, III and IV are correct
(C) Only III is correct (D) Only III and IV are correct

146. Give one word substitute for

A large number of fish swimming together.

- (A) shoal
- (B) troupe
- (C) swarm
- (D) litter

147. Choose the meaning of the underlined phrase/Idiom –

I am going to stay at home because I am feeling under the weather today.

- (A) unhappy
- (B) depressed
- (C) irritated
- (D) sick

148. Choose the correct answer from the given options –

The teacher said to the students, “Take back your books”. (Change into indirect speech)

- (A) The teacher asked the students to take back your books.
- (B) The teacher asked the students to take back their books.
- (C) The teacher told the students to take back books.
- (D) The teacher ordered the students to take back your books.



149. Fill in the blank spaces in the given sentence choosing correct answer from the given options –

“ tiger is fierce wild animal”.

- (A) a , the
- (B) the, a
- (C) a, a
- (D) the, the

150. Choose the correct option:

They made me laugh. (Change into passive voice)

- (A) They were made to laugh by me.
- (B) They made too laugh by me.
- (C) I was made to laugh.
- (D) I were made to laugh by them.



उत्तर पत्रक में दो प्रतियाँ हैं – मूल प्रति और द्वितीय प्रति, परीक्षा समाप्ति पर परीक्षा कक्ष छोड़ने से पूर्व परीक्षार्थी उत्तर पत्रक के दोनों प्रतियाँ वीक्षक को सौंपेंगे, परीक्षार्थी स्वयं द्वितीय प्रति को अलग नहीं करें। वीक्षक द्वारा उत्तर पत्रक की मूल प्रति को अपने पास जमा कर, द्वितीय प्रति को मूल प्रति से कट लाईन से मोड़ कर सावधानीपूर्वक अलग कर परीक्षार्थी को सौंपेंगे। परीक्षार्थी द्वितीय प्रति को अपने साथ ले जायें।